



# المميز والتميز للمحوسب الإختبارات المحاسبية "التمركز والغزال" 100% كمي، 100% لفظي

#نساعد\_فنساعد

#المميز\_والتميز\_التعليمي

 /MMQ4u  /MMQ2u

# المقدمة

ان المعارك المُلهبة مصيرها الإنطفاء ذات يوم ومصيرنا التوقف عن الركض وراء الأعلام، آملين أن يعقب كل هذا لحظات إنتصارٍ نُخبئ فيها انكساراتنا وهزائمنا الكثيرة خلال تلك المعركة ووعدٌ لكل آمالكم العظيمة هناك المُميز.  
بسم الله على الغايات حتى نصل، بسم الله على الأعلام حتى نراها، بإسمه يهون كل صعب..  
لأجل أعلام كل مُميز عظيم بكل الحب نضيف لكم نموذج (التمركز والغزال) آملين أن نكون وفقنا لما فيه رضاكم ومساعدتكم على بلوغ أهدافكم التي تحركنا وتدفعنا للعباء الدائم..

إن وجدتم خطأ فهذه طبيعة البشر (راجعوا المميز والمتميز التعليمي)، وإن لم تجدوا فهذا توفيق من الله عز وجل.



# قائمة المحتويات

# المحتويات

المقدمة	1
قائمة المحتويات	2
تنويه هام!	3
استعن بالله	4
القسم الأول	5
القسم الثاني	6
القسم الثالث	7
القسم الرابع	8
ختاما	9
فريق العمل	10

# تنويه هام!

هذا العمل خاص بالمميز والتميز التعليمي وتجميعات دحوم،  
وجميع الحقوق محفوظة لهم، لأنجز سرقة أو نسبه لغير  
أهله ولا نحل استغلال هذا العمل مادياً بأي شكل كان وبأي  
وسيلة كانت، ولا نسمح لأي شخص أو جهة أن تقوم بهذا  
الفعل مهما تحايلت عليه بمسميات أخرى لخداع الطلاب،  
فهدفنا الأول والأخير منذ البداية هو إفادتكم دون تعريضكم  
للإستنزاف المادي بأي طريقة كانت..

هذا العمل بالتعاون مع تجميعات دحوم



[جميع روابط المميز والتميز التعليمي](#)

# استعن بالله

نعجز لأننا بشر، فنستعين بالذي لا يعجزه شيء في السماء ولا في الأرض، نفر إليه وتدعوه ونسأله، يقرب المؤمن المحب الشغوف الواثق فيكفينا ما أهمنا ويستحيب لدعواتنا الحارة، ودموعنا الصادقة، ويغدق علينا أفضله الواسعة، ليس لنا سواه يسمعنا ويكرمنا ويعطينا هذا البر الكريم يكرم عبده، أتخال في عمق المواجه ويدعك؟! قال رسول الله صلى الله عليه وسلم: (إذا استعنت فاستعن بالله).

## دعاء قبل المذاكرة:

اللهم إني أسألك فهم النبيين وحفظ المرسلين والملائكة المقربين.  
اللهم أجعل ألسنتنا عامرة بذكرك وقلوبنا بخشيتك، أنك على كل شيء قدير وحسبنا الله ونعم الوكيل.

رب أشرح لي صدري ويسر لي أمري واحلل عقدة من لساني يفقهوا قولي، بسم الله الفتاح، اللهم لا سهل إلا ما جعلته سهلاً وأنت تجعل الحزن متى شئت سهلاً يا أرحم الراحمين

## دعاء بعد المذاكرة:

اللهم إني أستودعك ما قرأت وما حفظت وما تعلمت فرده لي عند حاجتي إليه إنك على كل شيء قدير وحسبنا الله ونعم الوكيل.



# القسم الأول

السؤال: (1) إذا كان هناك 5 أعداد متتالية وكان أصغرها = صفر فإن الأعداد الباقية؟

- أ جميعها موجبة    ب جميعها سالبة    ج سالبة وموجبة    د غير ذلك

الحل: أ

السؤال: (2) إذا اشترى رجل ثلجة سعرها 6000 ريال وباعها بربح 25% فما سعرها بعد الربح؟

- أ 7100    ب 7500    ج 6100    د 8200

الحل: ب

السؤال: (3) إذا كان  $3 \times 9 = 3^7$  فإن ..... =

- أ 3    ب 9    ج 6    د 4

الحل: أ

السؤال: (4) أي عدد مما يلي لا يمكن أن يكون حاصل ضرب عددين متتالين؟

- أ 42    ب 56    ج 64    د 30

الحل: ج

السؤال: (5) 1، 4، 3، 7، 5، 10، ..... =

- أ 9    ب 7    ج 5    د 11

الحل: ب

ما المنطقة التي تكون نسبة المرضى فيها إلى الأجهزة أكبر ما يكون

البيان	المنطقة الوسطى	المنطقة الشمالية	المنطقة الجنوبية	المنطقة الشرقية	المنطقة الغربية	المجموع
المرضى	1294	347	1047	543	1950	5181
الأجهزة	436	182	349	229	429	1662
النسبة	2.8	1.9	3	2.4	4.4	14.5

السؤال: (6)

الغربية

د

الجنوبية

ج

الشرقية

ب

الوسطى

أ

الحل: د

نسبة المرضى إلى الأجهزة في المنطقة الجنوبية هي؟

السؤال: (7)

جهاز واحد لكل 3 مرضى

ب

3 أجهزة لكل مريض

أ

جهاز واحد لكل مريض

د

جهازين لكل مريض

ج

الحل: ب

أوجد قيمة س

السؤال: (8)

145  
س

133

د

125

ج

120

ب

110

أ

الحل: ج

إذا كان س و ص و ع أعداد صحيحة موجبة وكان  $س + ص + ع = 12$  ،  $س = ع$

السؤال: (9)

قارن بين:

ع

القيمة الثانية:

7

القيمة الأولى:

المعطيات غير كافية

د

القيمتان متساويتان

ج

القيمة الثانية أكبر

ب

القيمة الأولى أكبر

أ

الحل: أ

قارن بين:

لسؤال: (10)

4

القيمة الثانية:

$2^{-2}$  (0.25)

القيمة الأولى:

المعطيات غير كافية

د

القيمتان متساويتان

ج

القيمة الثانية أكبر

ب

القيمة الأولى أكبر

أ

الحل: أ

نظارات : عيون

لسؤال: (11)

اطار : سيارة

د

عجلات : دراجة

ج

ساعة : بطارية

ب

قفاز : يد

أ

الحل: أ

حلاوة : سكر

لسؤال: (12)

مرونة : ورقة

د

جمال : فتنة

ج

حجر : قسوة

ب

لمعان : ذهب

أ

الحل: أ

حشد : جماعة

لسؤال: (13)

دفع : جذب

د

جلوس : قيام

ج

مقص : قماش

ب

جود : كرم

أ

الحل: أ

جزيرة : شاطئ

لسؤال: (14)

سور : حديقة

د

بركة : ماء

ج

خيمة : صحراء

ب

يد : ساعة

أ

الحل: أ

حشد : مشجعين

لسؤال: (15)

جذب : سائقين

د

تحفيز : موظفين

ج

تفريق : متسولين

ب

تشجيع : مدربين

أ

الحل: ج

تكلم وأنت ..... وستقول كلام ..... عليه طوال حياتك.

لسؤال: (16)

د مبتهج - تسعد

ج فاهم - تندم

ب مبتسم - تفرح

أ غاضب - تندم

الحل: أ

الزراعة تحقق ..... ونمو الإنسان والحيوان و ..... الصناعات الغذائية.

لسؤال: (17)

د التصدير - تبادل

ج الأمن - وإنتاج

ب الاكتفاء - معالجة

أ الرخاء - ازدهار

الحل: أ

يجب مراعاة أساليب السلامة في صناعة ألعاب الأطفال وأن تكون صناعتها بأدنى جودة لأنها تذهب إلى أناس لا يعرفون ماهي عيوب السلع الاستهلاكية.

لسؤال: (18)

د عيوب

ج تذهب

ب بأدنى

أ صناعة

الحل: ب

لا يوجد رجل فاشل بل يوجد رجل بدأ من القمة وثبت فيها .

لسؤال: (19)

د فيها

ج القمة

ب بل يوجد

أ رجل

الحل: ج

الغزال

القطعة: (1)

كانتخاب طبيعي لإفراز الأفراد الأقوياء الذين سيؤسسون مقاطعات يلقحون فيما بعد الإناث التي ستدخلها.

ويسمى الرضيع عند الولادة؛ الطلا إلى عمر أسبوعين، ثم الخشف من 3 إلى 8 أسابيع، ثم الشادن والذي يعرف مع بروز القرون الصغيرة وعمره ما بين 3 و6 أشهر، وغذاؤه خليط بين الرضاعة والنباتات، ثم الشصرة أو الجدية أو الظبية وتكون في عامها الأول وتدخل ضمن الإناث وقد تحمل في هذا السن. والذكر في هذا السن يسمى: الشصر والجدي والظبي. أما الذكور البالغة فتسمى: الثني وتتميز بكبر حجم قرونها التي تزيد على ضعفي طول الأذان وتتميز بحلقاتها المحززة، كما تتميز ذكور غزلان الريم بانتفاخ يشبه الدراق عند منتصف الحلق.

1

سؤال: (20) ما معنى (ضراوة) الواردة بالفقرة (4)..... (ماذا اضافت كلمة ضراوة)؟

الانتصار في المعركة

ب

شدة القتال

أ

الاستسلام

د

هوانة القتال

ج

الحل: أ

سؤال: (21) أين ينتشر غزال الريم الآن وفقا لما ورد بالفقرة (2)؟

شرق الجزيرة العربية

ب

شمال الجزيرة العربية

أ

غرب الجزيرة العربية

د

جنوب الجزيرة العربية

ج

الحل: أ

سؤال: (22) ماذا يقصد الكاتب بـ (كانت ذات يوم واسعة الانتشار) في الفقرة (2)؟

أنها مازالت تعيش في الجزيرة

ب

كان موجود في الجزيرة منذ زمن  
(يعيش هناك قبل زمن بعيد)

أ

انقرضت من على وجه الأرض

د

كثرة الغزلان في هذه المناطق

ج

الحل: أ

سؤال: (23) وفقاً للفقرة (2) معنى (الندى):

القطر

ب

المطر

أ

الماء

د

السيول

ج

الحل: ب

وفقا لما ورد بالفقرة (4) ما هي الحالة التي يتعارك فيها الذكور.....

لسؤال: (24)

ب في حالة موت الإناث

ب

أ عند تأسيس القطيع

أ

د في المساء

د

ج صباح كل يوم

ج

الحل: أ

وفقا لما ورد بالفقرة (4) يبدأ الغزال القتال ب.....

لسؤال: (25)

ب الاستعراض السيادي

ب

أ إظهار القرنين

أ

د الجري نحو العدو-

د

ج النزاع و العراك

ج

الحل: ب

وفقاً لما ورد بالفقرة (4) متى ينتهي القتال بين ذكور الغزلان؟

لسؤال: (26)

ب عندما يخفض أحدهما رأسه إلى الأرض

ب

أ عند ترك (يغادر) أحدهما المقاطعة

أ

د عندما يقتل أحدهما الآخر

د

ج عند اشتداد حر الظهيرة

ج

الحل: أ

وفقاً للفقرة (3) فإن غزال الريم يرعى في فترة ..... // وفقاً للفقرة (3) فإن غزال الريم يرعى متى (يمارس الغزال نشاطه؟)

لسؤال: (27)

ب من الشفق والغسق وحدهما

ب

أ من الغروب إلى وسط الليل (الليل والغسق)

أ

أو (من الغروب إلى أثناء الليل)

د من الفجر إلى الغروب

د

ج من الفجر حتى الظهيرة

ج

الحل: أ

وفقاً للفقرة (1) فإن العلاقة بين غزال الريم والرمال علاقة تقارب:

لسؤال: (28)

مكانية

ب

صوتية

أ

وراثية

د

جغرافية

ج

الحل: أ

وفقاً لما ورد بالفقرة (4) الفائدة من القتال التمييز بين:

لسؤال: (29)

الذكور القوية

ب

الإناث المختارة

أ

أنواع الريم

د

أفراد القطيع

ج

الحل: ب



# القسم الثاني

سؤال: (30)  $4 = ع - ص = 6$  ،  $3ع = 24$  ، فإن  $س + ص + ع = \dots\dots$

أ

ب

ج

د

الحل: د

سؤال: (31) ينهي متسابق 25% من السباق في 5 دقائق، فإذا استمر بنفس السرعة بعد كم دقيقة ينهي السباق؟

أ

ب

ج

د 40

الحل: أ

سؤال: (32) إذا كانت  $س = 1$ ، فأوجد قيمة  $س^2 - 3س - 8 + 1$

أ

ب

ج

د 8

الحل: د

سؤال: (33) اشترى شخصين جوالين بتخفيض 25% و 3 جوالات بتخفيض 50% وكان المبلغ الذي دفعه 4500 ريال فكم سعر الجوال قبل التخفيض؟


أ

ب

ج

د 2000

الحل: ب



سؤال: (34) إذا كان الشكل مستطيل، فأوجد نسبة مساحة المظلل إلى الشكل؟

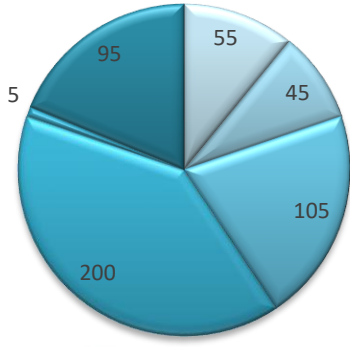
أ

ب

ج

د 3 : 1

الحل: أ



ثالث ثانوي علمي  
ثاني ثانوي علمي  
ثالث ثانوي شرعي  
ثاني ثانوي شرعي  
الأول الثانوي  
المعاقين

استخدم الرسم للإجابة  
عن الأسئلة التالية: أي  
الآتي أكبر؟

لسؤال: (35)

ثالث ثانوي  
(علمي وشرعي)

د

ثاني علمي وثالث  
علمي

ج

ثاني ثانوي (علمي  
وشرعي)

ب

ثالث شرعي وثاني  
علمي

أ

الحل: ج

عند إضافة 15 طالب للمرحلة الثانوية كم يكون مجموع عدد الطلاب؟

لسؤال: (36)

500

د

510

ج


520

ب

515

أ

الحل: ب



قارن بين:

لسؤال: (37)

مساحة الشكل الغير مظلل

القيمة الثانية:

مساحة الشكل المظلل

القيمة الأولى:

المعطيات غير كافية

د

القيمتان متساويتان

ج

القيمة الثانية أكبر

ب

القيمة الأولى أكبر

أ

الحل: ج

قارن بين:

لسؤال: (38)

$$\frac{7}{28}$$

القيمة الثانية:

$$\frac{9}{36}$$

القيمة الأولى:

د المعطيات غير كافية

ج القيمتان متساويتان

ب القيمة الثانية أكبر

أ القيمة الأولى أكبر

الحل: ج

آثام : عقوق

لسؤال: (39)

د أسد : أدغال

ج أقارب : قطيعة

ب دعاء : أذكار

أ أخلاق : تواضع

الحل: أ

بقرة : حليب

لسؤال: (40)

د حوت : عنبر

ج خروف : صوف

ب دجاجة : بيضة

أ نحلة : عسل

الحل: أ

نظارة : عين

لسؤال: (41)

د سيارة : نقل

ج سور : حديقة

ب خيمة : صحراء

أ ساعة : يد

الحل: أ

جزيرة : شاطئ

لسؤال: (42)

د ذراع : سوار  
(صورة : إطار)

ج بركة : ماء  
(وشم : يد)

ب خيمة : صحراء

أ سور : حديقة

الحل: د

اجتهاد : نجاح

لسؤال: (43)

د رسوب : إهمال

ج وجود : سخاء

ب تواضع : احترام

أ غنى : عطاء

الحل: ب

إن التردد مرض من الأمراض، يصيب المرء في حياته ..... فيشل يده وعقله  
ويتركه ..... للألم.

لسؤال: (44)

د العامة : مأوى

ج العملية : فريسة

ب القوية : رهينة

أ الجادة : فرصة

الحل: ج

كشفت الدراسات ..... أن إلقاء المخلفات في الماء يؤثر على ..... لدى الأسماك.

لسؤال: (45)

د البحرية -  
مقاومتها

ج الجيومرفولوجية -  
حيلتها

ب البحرية - قوة

أ المعاصرة -  
المناعة

الحل: أ

الصديق الحقيقي من نشر عيوبك لتفادي الوقوع فيها.

لسؤال: (46)

د فيها

ج الوقوع

ب نشر

أ الحقيقي

الحل: ب

الفشل هو الشيء الوحيد الذي تستطيع ان تتفاداه دون بذل أي مجهود.

لسؤال: (47)

د بذل

ج تتفاداه

ب الشيء

أ الفشل

الحل: ج

## التمركز

القطعة: (2)

الاتجاهات لتصحيح الأفكار والآراء.. وتعديل المواقف والاتجاهات.. وتطوير العلوم والتقنيات.. وتحسين الأوضاع والمؤسسات..

إن من أهم المبادئ والممارسات التي ازدهر بها الغرب هو الأخذ بمبدأ التغليب والترجيح فهم لا يدعون الكمال لانفسهم ولا لأعمالهم ولا لمعارفهم ولا يتوقعون الكمال لأي شيء في هذه الدنيا وهذا الشعور بالبعد عن الكمال هو أحد حوافز العمل فهم يواصلون الجهد دون كلل ويعتبرون الكمال في الفكر والفعل حلاً يستحيل تحقيقه ولا بد من الاستمرار في ملاحظته للوصول إليه، كما أن أحكامهم تأتي ترجيحاً وليس قطعاً ومهما بلغت درجة التحقق فإن باب المراجعة يظل مفتوحاً بل إن بعض مفكري الغرب مثل كارل بوبر يرون أن قابلية النقص وليس قابلية التحقق هي التي تميز العلم

1

وفقاً لما ورد في الفقرة (5) فإن الدول المتقدمة تميل الى .....// المجتمعات المتقدمة تميل الى؟

لسؤال: (48)

التغليب والترجيح

ب

الانفتاح والكمال

أ

الثبات

د

التحفظ

ج

الحل: ب

وفقاً لما جاء في الفقرة (4) فإن المنفتحين.....الذين يتسمون .....

لسؤال: (49)

يسعون إلى الجمود

ب

يعملون باستمرار في تنمية أنفسهم

أ

يتكاسلون في العمل

د

يقدرون أهمية الراحة

ج

الحل: أ

الفكرة الصميمة في عموم النص.....// استفاد من النص أن.....

لسؤال: (50)

التمركز من طبيعة الشعوب المتطورة

ب

التمركز من طبيعة الإنسان ويمكن التحكم فيه

أ

الترجيح سمة الشعوب المتمركزة

د

التمركز يؤدي الى التطور

ج

الحل: أ

يعود الضمير (إليه) في الفقرة (6) على.....// ( ) المنفتحين يتعدون عن  
توهم الوصول اليه كلمة «إليه» تعود على....)

لسؤال: (51)

العمل

ب

الكمال

أ

الإنغلاق

د

التمركز

ج

الحل: أ

وفقا للفقرة (2) فإن دوائر التمركز.....// دوائر التمركز

لسؤال: (52)

مجتمعية ومتعددة

ب

فردية مجتمعية (منفردة ومجتمعية)

أ

-

د

فردية وذاتية

ج

الحل: أ

وفقا لما جاء في الفقرة (1) يرى الإنسان أن حقوقه:

لسؤال: (53)

تقل عن حقوق الآخرين

ب

توازي واجباته

أ

تعلو على واجباته (تفوق واجباته)

د

تعادل حقوق الآخرين

ج

الحل: د

التمركز حسب ما ورد في نهاية الفقرة (1) يؤدي إلى... (التمركز يؤدي إلى....)

لسؤال: (54)

الكسل

ب

الجمود (الثبات)

أ

-

د

الإستسلام

ج

الحل: أ

سؤال: (55) المنغلقين الذين حققوا الوصول إلى الكمال.... (الكمال عند المنغلقين .....

موجود غالبًا

ب

نادر الوجود

أ

بعضه موجود

د

غير موجود

ج

الحل: ج

سؤال: (56) وفقا لما ورد في الفقرة (6) فإن البعد عن ابتغاء الكمال. يؤدي إلى.....// البعد عن ابتغاء الكمال:

يوصل إلى تجاوز الطموح

ب

يدفع للاستمرار في العمل

أ

انخفاض الأجور

د

يقلل الجهد المبذول

ج

الحل: أ

سؤال: (57) توضح الفقرة (2) أنه عندما يرى الإنسان مميزات ولا يبصر لسيئاته فإن هذا يقع ضمن:

مستوى الدوائر الصغرى

ب

مستوى الدوائر الكبرى

أ

-التمركز حول الذات

د

السعي نحو الكمال

ج

الحل: أ

سؤال: (58) توضح الفقرة (2) أنه عندما يري الأنسان مميزات ولا يبصر سيئاته فأن هذا يقع ضمن:

فروع التمركز الأولى

ب

مستوى الدوائر الكبرى

أ

تمركز الإنسان حول نفسه

د

تمركز الأسرة

ج

الحل: أ

أنسب عنوان للنص:

لسؤال: (59)

التمركز الثقافي

ب

تمركز الأسرة

أ

مزايا التمركز

د

مفهوم تمركز الإنسان

ج

الحل: ج





# القسم الثالث

تنتج جريدة 5000 نسخة أسبوعيًا، فكم تنتج في السنة تقريبًا؟

لسؤال: (60)

36500

د

20000

ج

250000

ب

35000

أ

الحل: ب

إذا ضرب العدد في مربعه وطرح منه ثلاثة أمثاله، فأى المعادلات التالية تمثل ذلك؟

لسؤال: (61)

س<sup>2</sup> - 2س

د

س<sup>3</sup> - 3س

ج

س<sup>2</sup> + 3س

ب

س<sup>2</sup> - 3س

أ

الحل: ج

رجل معه مبلغ من المال قسمه على أبنائه التسعة بالتساوي بدون كسور، ما قيمة المبلغ؟

لسؤال: (62)

120

د

119

ج

118

ب

117

أ

الحل: أ

إذا اشترى شخص 10 ألعاب ب 24 ريال وباع كل 4 ألعاب ب 12 فكم يكون الربح في بيع 30 لعبة؟

لسؤال: (63)

18

د

16

ج

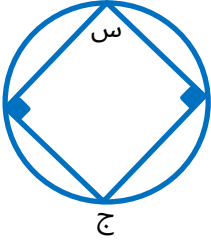
14

ب

13

أ

الحل: د



في الشكل المقابل: إذا كانت  $s = 35$ ،  
فأوجد قيمة ج؟

لسؤال: (64)

45

د

25

ج

145

ب

95

أ

الحل: ب



مربع طول ضلعه = 10 سم داخله دائرة،  
أوجد مساحة المظل.

لسؤال: (65)

30

د

10

ج

21.5

ب

10.57

أ

الحل: أ



إذا كانت مساحة المثلث = 2 سم  
فإن مساحة الدائرة؟

لسؤال: (66)

9 ط

د

12 ط

ج

5 ط

ب

4 ط

أ

الحل: أ

إذا كان مع محمد 2500 هلة و 5 ريال، فـقارن بين:

لسؤال: (67)

35 ريال

القيمة الثانية:

ما مع محمد

القيمة الأولى:

المعطيات غير كافية

د

القيمتان متساويتان

ج

القيمة الثانية أكبر

ب

القيمة الأولى أكبر

أ

الحل: ب

خاتم : أصبع

لسؤال: (68)

د كرة : دائرة

ج يد : وشم

ب خلخال : رجل

أ سوار : ذراع

الحل: ب

ذيل : طائر

لسؤال: (69)

د معلم : قلم

ج أنف : أذن

ب ورقة : قلم

أ عربة : قطار

الحل: أ

حياة : جبل

لسؤال: (70)

د شهادة : تخرج

ج تل : هضبة

ب نجم : شمس

أ برتقال : كرة

الحل: أ

جيران : إيذاء

لسؤال: (71)

د كتب : فوائد

ج أقارب : تعارف

ب أغنياء : بخل

أ أقارب : قطيعة

الحل: أ

طباعة : توزيع

لسؤال: (72)

د رسم : لوحة

ج ينصت : يسمع

ب غنى : عطاء

أ قراءة : فهم

الحل: أ

التعليم كالسباحة ضد التيار إن لم ..... سوف .....

لسؤال: (73)

د تتعلم - ترسب

ج تسبح - تغرق

ب تجدف - ترمي

أ تتقدم - تتراجع

الحل: أ

اجعل جزءا من ... اليومي لتطوير .... وزيادة ثقافتك.  
(خصص وقتًا من ..... اليومي لتعليم نفسك وثقيف ...)

لسؤال: (74)

د التفكير - التسرع

ج التريث - التعجيل

ب برنامجك - ذاتك

أ تديريك - علمك

الحل: ب

مدينة البصرة بنيت في عهد الفاروق خارج حدود الجزيرة العربية وهي مدينة مهمة  
بنيت سنة 14 قبل الهجرة.

لسؤال: (75)

د قبل

ج بنيت

ب خارج

أ البصرة

الحل: د

المعلم الناصح هو الذي يحطم (يثبط) طلابه لكي يزداد لديهم أمل النجاح في  
المستقبل.

لسؤال: (76)

د المستقبل

ج يزداد

ب يحطم (يثبط)

أ المعلم

الحل: ب

الجريمة

القطعة: (3)

الجريمة تؤدي إلى نقص الاقتصاد مما يؤدي لارتفاع الضرائب التي تزيد الأسعار.  
صيغة أخرى تؤدي الجرائم الالكترونية إلى ضعف اقتصاد الدولة مما يزيد تكلفة التأمين ويؤدي إلى  
زيادة السعر العام للمنتج

1

العلاقة بين الجريمة وارتفاع سعر المنتج:

لسؤال: (77)

ب عكسية

أ تكاملية

د نتيجة وسبب

ج سبب ونتيجة

الحل: ج



# القسم الرابع

عددان زوجيان الفرق بينهما = 10 ومجموعهما 74، ما العدد الأصغر؟

لسؤال: (78)

46

د

35

ج

36

ب

32

أ

الحل: أ

$$= \frac{1}{2س} + \frac{1}{5س}$$

لسؤال: (79)

$\frac{10}{7س}$

د

$\frac{7}{10س}$

ج

$\frac{10س}{7}$

ب

$\frac{1}{7س}$

أ

الحل: ج

يحتاج صالح  $6\frac{1}{4}$  دقيقة حتى يصل إلى المسجد للصلاة، كم دقيقة يقضيها صالح ذهابًا وإيابًا للمسجد في اليوم الواحد

لسؤال: (80)

65

د

$62\frac{1}{4}$

ج

$62\frac{1}{2}$

ب

64

أ

الحل: ب

اشتريت امرأة ثلاث عطور، العطر الثاني = نصف سعر الأول، العطر الثالث = ثلث سعر الأول، فأوجد قيمة العطر الأول إذا كان مجموع ما دفعته = 1100 ريال؟

لسؤال: (81)

600

د

300

ج

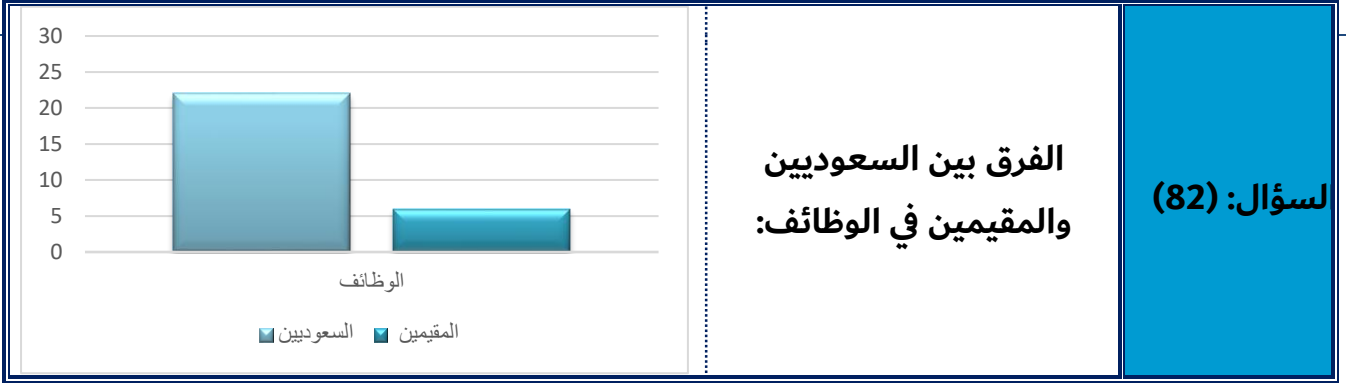
400

ب

800

أ

الحل: د

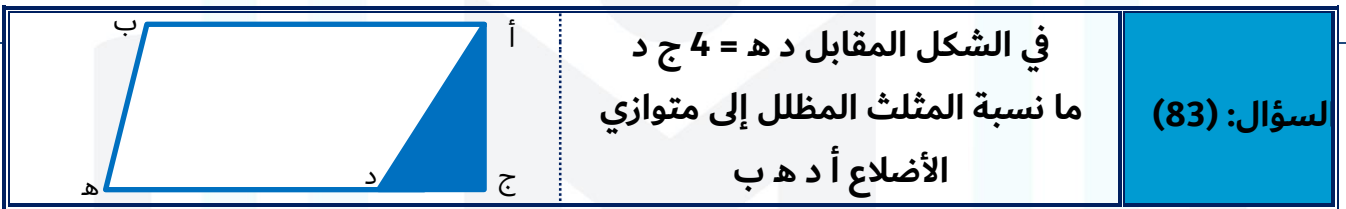


الفرق بين السعوديين  
والمقيمين في الوظائف:

سؤال: (82)

- أ 16 مليون    ب 15 مليون    ج 20 مليون    د 25 مليون

الحل: ب

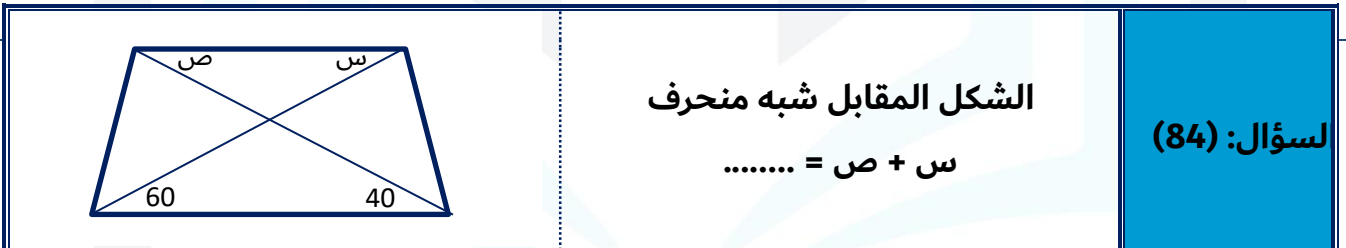


في الشكل المقابل د ه = 4 ج د  
ما نسبة المثلث المظلل إلى متوازي  
الأضلاع أ د ه ب

سؤال: (83)

- أ 10 : 1    ب 8 : 1    ج 6 : 1    د 12 : 1

الحل: ب



الشكل المقابل شبه منحرف  
س + ص = .....

سؤال: (84)

- أ 100    ب 90    ج 120    د 80

سؤال: (85) إذا كان عمر فهد = 3 أمثال عمر ناصر وعمر ناصر  $\frac{1}{3}$  عمر فارس فقلل بين

- | عمر فارس           | القيمة الثانية:    | عمر فهد             | القيمة الأولى:     |
|--------------------|--------------------|---------------------|--------------------|
| المعطيات غير كافية | القيمتان متساويتان | القيمة الثانية أكبر | القيمة الأولى أكبر |

الحل: ج

ثلاجة : تبريد

لسؤال: (86)

د عمل : عبادة

ج أنف : أذن

ب طائرة : محرك

أ قدر : طبخ

الحل: أ

يفوز : يخسر

لسؤال: (87)

د يقرأ : يكتب

ج يهرول : يجري

ب يطير : يحفر

أ يخفض : يرفع  
(بعيد : قريب)

الحل: أ

منع : سد

لسؤال: (88)

د شمم : سفح

ج نوى : هوى

ب شهر : ساعة

أ رتبة : منزلة

الحل: أ

سحاب : برق

لسؤال: (89)

د متر : قياس

ج مهر : حصان

ب شارع : رصيف

أ شمس : شعاع

الحل: أ

يخسر : يفوز

لسؤال: (90)

د يجيب : يرد

ج موز : تفاح

ب ربع : ثمن

أ يخفض : يرفع

الحل: أ

عجلة : ندم

لسؤال: (91)

د تمنى : ترحي

ج رسوب : إهمال

ب نجاح : اجتهاد

أ ذكر : حماية

الحل: أ

لا يكفي أن تفعل ..... بل أن ..... صنعه.

لسؤال: (92)

د صنيغًا - تطوره

ج مكروهًا - تتقن

ب معروفًا - تهدم

أ خيرًا: تحسن

الحل: أ

يجب للأخ على أخيه مودته بقلبه ورفده بماله وحسن المسارعة عنه في غيبته.

لسؤال: (93)

د غيبته

ج المسارعة

ب بماله

أ بقلبه

الحل: ج

دولة الباطل ساعة ودولة الحق الى انتظار الساعة.

لسؤال: (94)

د انتظار

ج الحق

ب ساعة

أ الباطل

الحل: د

من أهم خصال المدير الناجح الشجاعة والجرأة على العمل والجرأة على توقع النجاح.

لسؤال: (95)

د النجاح

ج الجرأة

ب الناجح

أ خصال

الحل: د

# ختامًا

لو أمسكت بالحلم، لا تحددق إليه، هذا الذي عَنَّاك دهرًا، لا يستحق غير التفاتية واثقية منك لتمسكه بين يديك، ثم انطلق لحلم جديد، هي الأعلام تُحب الذين يأخذونها تباعا..

والنجاح يُرافق أولئك الذين يؤمنون بحقهم في الحلم، أولئك الذين وضعوا هدفًا نصب أعينهم ثم عملوا جاهدين لتحقيقه، ليكون الفخر من نصيبهم بعدما نالوا مُرادهم.. هذا حصاد جهدنا، وضعناه بين أيديكم، وحرصًا منا على تحقيق الاستفادة الكبرى، والنفع الأعظم لكم، قمنا بإعداد اختبار إلكتروني شامل للنموذج للتأكد من استيعابكم الكامل لجميع الأسئلة، ننصحكم بحله للتحقق من مذاكرتكم..

## ملحوظة!

صديق المُميز العزيز نود أن نُذكرك بأن كل نفس بشرية بُذرت في الحياة تواقه للأفضل، باحثه عن الآفاق الأبعد ولكن نحن بالإتقان لا الكمال نُصبح أفضل.. فالبطل الحقيقي لا يستسلم مهما كانت النتيجة بل يقف صامدًا أمام العثرات ويُجرب مرارًا وتكرارًا حتى يصل..

# فريق عمل الإختبارات المُحاكية

الإشراف العام والتنسيق: الإخراج الفني:

إسلام حازم

حبيبة عادل

## فريق الإعداد:

محمد عادل، إسلام جاد، محمد محمود، زياد ربيع، آلاء يوسف، أروي عزت، عبد الرحمن أحمد، محمد السيد، مريم اسلام، عمر الياسين، ملك احمد، أحمد أيمن.

شكر خاص للأساتذة الذين قاموا بمراجعة الحلول:

أ-إبراهيم الشامي.

أ-طارئ عبدالرحيم.

أ-سامح خليل.

أ-سمير جزار.

أ-السيد جاد الله.

أ-محمود محروس.